






REBUS



Hvilket dyr?

NAVN _____

 +  + E = _____

 + L +  = _____

 +  +  = _____

 - LV +  = _____

123 - L + π + R = _____